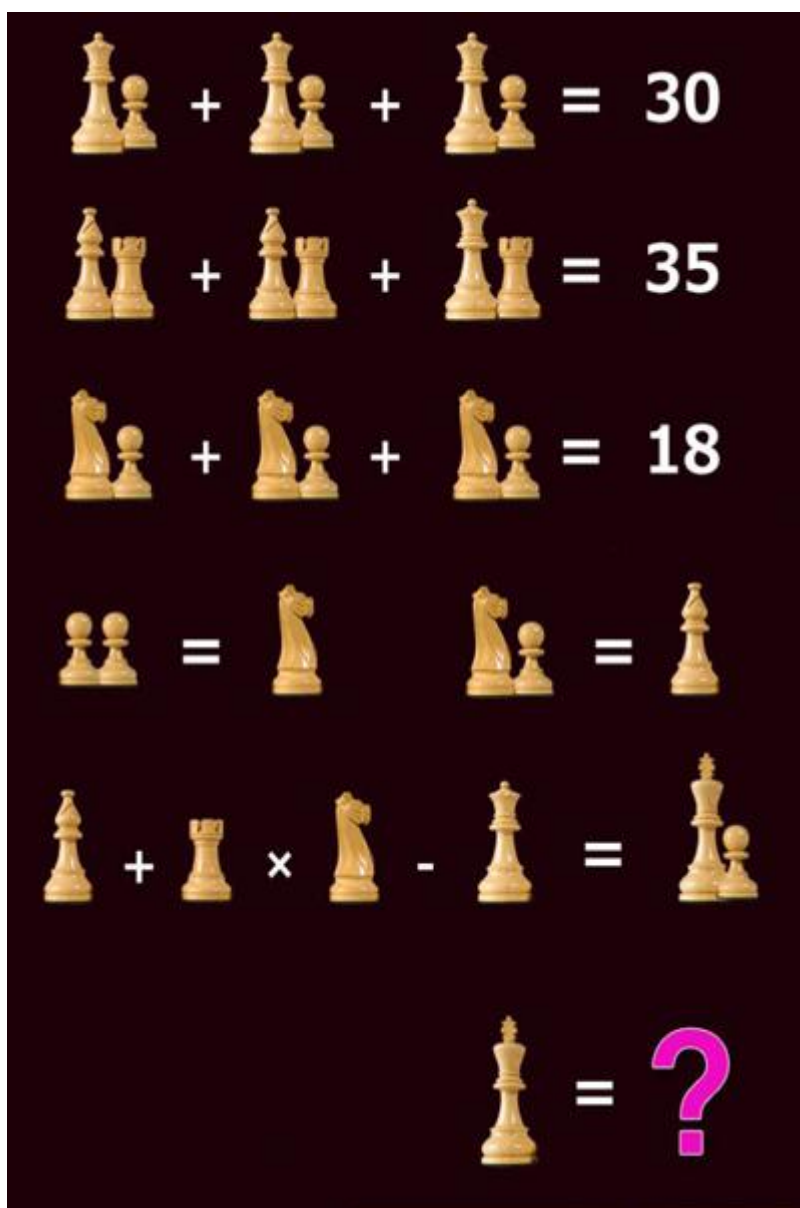



Hónyi E. Katalin: A HATALOM BÁBJAI

1. Mennyit ér egy király? Fejtsd meg a sakkos matematikai egyenletet!



(forrás: <http://www.noportal.hu/archiv/55252>)

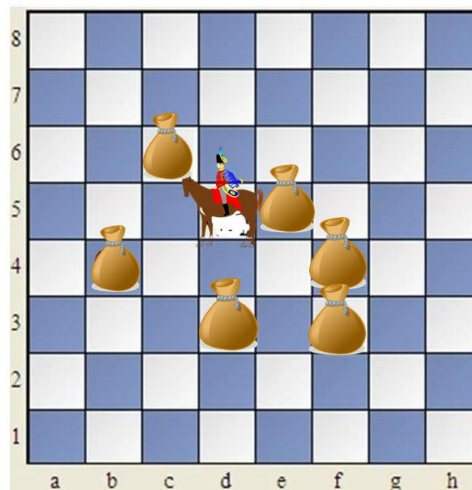
2. Indulj el a bal alsó sarokból! Lóúgrásban haladva keresd meg a sakktáblán a sakkbábuk nevét! A kimaradt betűkből egy újabb szó állítható össze. Mi ez a fogalom?



(MEGFEJTÉS: BÁBÁLLAM)

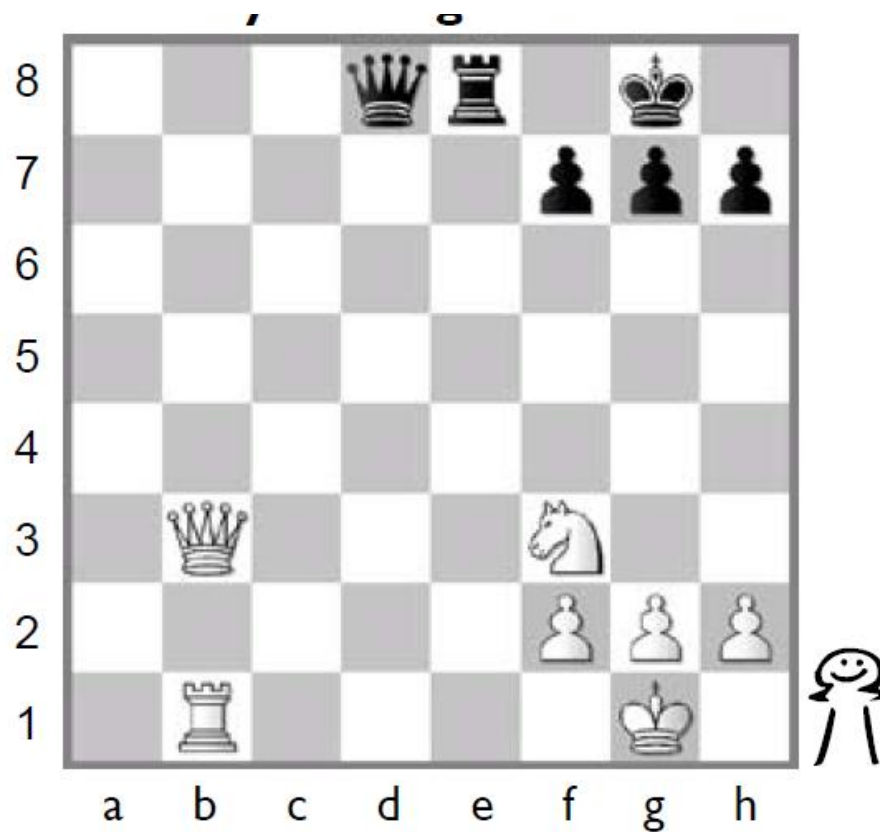
forrás: <https://pixabay.com/hu/photos/sakk-sakkt%C3%A1blaj%C3%A1t%C3%A9kt%C3%A1bla-z%C3%A1szl%C3%B3-2013758/>

3. A huszár lova éhes. Minden egyes lépése után egy zsák zabhoz jut. Mi a lépések helyes sorrendje?



források: <https://www.facebook.com/sakkovi/photos/a.771089496294906/3455553831181779/?type=3&theater>, <https://pixabay.com/hu/vectors/f%C3%A9rfi-lovagl%C3%A1s-l%C3%B3-lovas-barrie-160378/>, <https://pixabay.com/hu/vectors/p%C3%A9nz-t%C3%A1ska-barna-k%C3%B6t%C3%A9l-zs%C3%A1k-308815/>

4. Melyik sereg az erősebb? A világos vagy a sötét?



forrás: https://www.sakkpalota.hu/images/sakk/pdfhun/JP%20Sakk%20Download12_1.pdf

5. Egy sakkjátzsma mely elemei, bábjai felelhetnek meg az alábbi történelmi fogalmaknak?

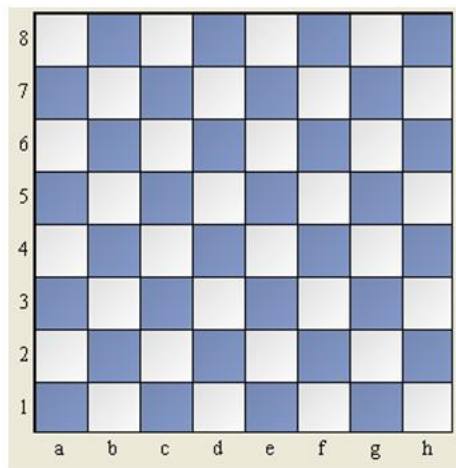
- csatamező:
- hadvezér:
- ország:
- keresztes lovag:
- jobbágyok:
- lövészárok:
- rabszolga:
- vártorony:
- fejedelem:
- hírnök:

6. Az olvasott szöveg alapján egészítsd ki az aránypárokat a megfelelő névvel, kifejezéssel!

- a) POLITIKA : SAKKJÁTSZMA POLITIKUS:
b) SAKKTÁBLA : KIRÁLY ANGLIA:
c) XIII. LAJOS : JÓZSEF ATYA BÁBKIRÁLY:
d) RICHELIEU : BUCKINGHAM FRANCIAORSZÁG:
e) I. JAKAB : I. KÁROLY c) XIII. LAJOS :

7. A csatatér közepén áll a hadvezér. Milyen alakzatban helyezkedik el körülötte a sereg? Megtudod, ha az alábbi mezőket összekötöd vonallal az adott sorrendben! Mindig a mező közepéből indulj, és a mező közepéig húzd a vonalat!

a4, a5, b6, e6, f5, g5, h4, g4
g3, f3, f4, c4, c3, b3, b4, a4



forrás: <http://sakkpalanta.hu/wp-content/uploads/2016/01/Tal%C3%A1l%C3%B3s-k%C3%A9rd%C3%A9sek.doc>

8. A csatatéren egyetlen jó húzás is eldöntheti az ütközet sorsát. Egy jó lépéssel fogságba lehet ejteni az ellenfél királyát.

Az alábbi helyzetben, hogyan tud a vezér egyetlen lépésben mattot adni a sötét királynak?

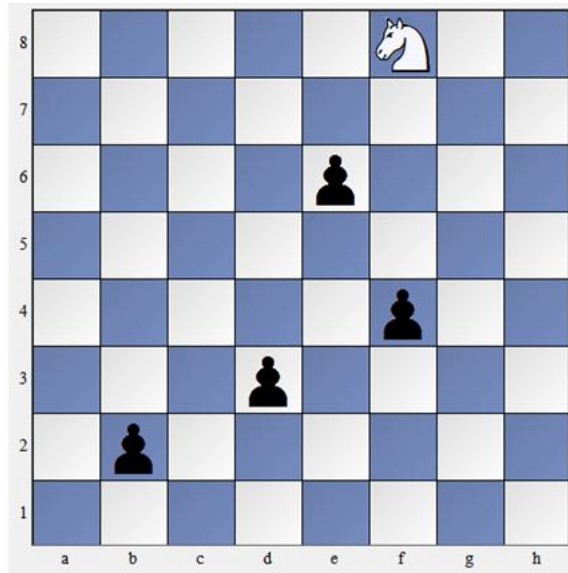


forrás: <http://sakkpalanta.hu/wp-content/uploads/2016/01/Egy1%C3%A9p%C3%A9ses-matt-vez%C3%A9r.doc>

9. A csatatéren harcolva az a feladatod, hogy ejts minél több foglyot.


Rajzold be a sakktáblára azokat a lépéseket, amelyekkel a bábuk a „foglyaid” lesznek!

a) KEZDŐ



forrás: <http://sakpalanta.hu/wp-content/uploads/2016/01/1.2.1-Kezd%C5%91-gy%C5%B1jt%C3%B6get%C5%91s.zip>

b) HALADÓ



forrás: <http://sakpalanta.hu/wp-content/uploads/2016/01/1.2.3-Halad%C3%B3-gy%C5%B1jt%C3%B6get%C5%91s.zip>